

- 1. Oprirea vehiculelor este interzisă:
 - **A** pe partea carosabilă a drumurilor naționale;
 - **B** în zona de acțiune a indicatorului „Oprirea interzisă“, până la prima intersecție;
 - **C** în dreptul căilor de acces care deservesc proprietățile alăturate drumurilor publice.

- 2. Este interzisă staționarea unui autoturism pe un drum public cu o lățime mai mică de 6 m?
 - **A** da;
 - **B** nu;
 - **C** legal, nu este prevăzut.

- 3. Ce trebuie să faceți pentru evitarea complicațiilor în cazul unei fracturi?
 - **A** să imobilizați zona fracturată;
 - **B** să sterilizați și să pansați zona fracturată;
 - **C** să aplicați un garou de cauciuc deasupra fracturii.

- 4. Ce se înțelege prin vigilență, din punct de vedere al conduitei preventive?
 - **A** capacitatea de a nu intra în conflict cu organele de poliție rutieră;
 - **B** să fiți odihnit și bine alimentat, pentru a nu fi obligat să opriți pe traseu;
 - **C** menținerea neîntreruptă a atenției pe toată durata deplasării.

- 5. Cursa liberă a pedalei de frână, mai mică decât cea obișnuită, indică:
 - **A** blocarea pedalei de frână;
 - **B** un joc insuficient între saboți și tamburi;
 - **C** pierderi de lichid pe la garnituri.

- 6. La ieșirea din zonele rezidențiale sau pietonale, sunteți obligat să acordați prioritate:
 - **A** autovehiculelor;
 - **B** pietonilor de pe sensul opus de circulație;
 - **C** tuturor vehiculelor cu care vă intersectați.

- 7. Care este viteza maximă prevăzută de lege pentru circulația în zonele rezidențiale?
 - **A** 5 km/h;
 - **B** 10 km/h;
 - **C** 20 km/h.

- **8.** La intersecția neregulată dintre un drum județean și unul comunal sau local, prioritatea de trecere se acordă:
 - **A** vehiculelor care circulă pe drumul județean;
 - **B** vehiculelor care circulă pe drumul comunal sau local;
 - **C** vehiculelor care vin din dreapta.

- **9.** Prezența calaminei pe suprafața bujiilor și fumul albăstrui al eșapamentului indică:
 - **A** mecanismul motor (grup piston-cilindru) este uzat;
 - **B** rularea frecventă cu o viteză inferioară limitei legale;
 - **C** folosirea unor bujii necorespunzătoare.

- **10.** Cum trebuie să procedeze conducătorul unui autovehicul dacă i-a fost prescris un tratament medicamentos?
 - **A** să se asigure că administrarea acestuia nu-i va afecta capacitatea de a conduce;
 - **B** să nu își administreze medicamentele înainte de a se urca la volan;
 - **C** să se informeze care este doza minimă care poate fi administrată pe perioada cât se află la volan.

- **11.** Pe ce bandă de circulație vă încadrați pentru a vira la stânga, într-o intersecție semnalizată cu astfel de marcaje?
 - **A** pe banda de circulație nr. 1;
 - **B** pe benzile de circulație nr. 2 și 3;
 - **C** pe banda de circulație nr. 4.



- 12. Puteți depăși mai multe vehicule în situația de față?
- **A** da;
- **B** nu;
- **C** numai dacă sunt peste două benzi de circulație.



- 13. Indicatorul alăturat interzice:
 - **A** circulația autovehiculelor destinate transportului de mărfuri, care au distanța dintre osii mai mare de 10 m;
 - **B** accesul autovehiculelor sau ansamblurilor de vehicule cu lungimea mai mare de 10 m;
 - **C** accesul autovehiculelor destinate transportului de mărfuri, care tractează remorci având o lungime mai mare de 10 m.
-
- 14. Luminile de avarie se folosesc în următoarea situație:
 - **A** când sunteți dezorientat în privința traseului de urmat;
 - **B** când vehiculul este imobilizat involuntar pe partea carosabilă sau în timp ce sunteți remorcat;
 - **C** când luminile de drum s-au defectat.
-
- 15. Vă apropiați de o intersecție fără indicatoare de circulație. Vizibilitatea în ambele direcții este imposibilă, din cauza vehiculelor staționate. Cum procedați?
 - **A** intrați încet în intersecție, cu atenție mărită;
 - **B** traversați cât mai rapid intersecția;

- **C** semnalizați luminos și intrați în intersecție.
- **16.** Exercițarea dreptului de a conduce se suspendă pe o perioadă de 30 de zile pentru:
 - **A** nerespectarea regulilor referitoare la remorcare;
 - **B** utilizarea excesivă a claxonului;
 - **C** depășirea unei coloane de vehicule oprite la culoarea roșie a semaforului.
- **17.** Când se poate face radierea din evidență a unui vehicul, la cererea proprietarului?
 - **A** la schimbarea oricăror date referitoare la identificarea vehiculului respectiv;
 - **B** la schimbarea domiciliului ori a sediului unității deținătoare;
 - **C** când proprietarul face dovada dezmembrării, casării sau predării vehiculului la unități specializate, în vederea dezmembrării.



- **18.** Trebuie să acordați prioritate autoturismului gri dacă acesta virează la stânga?
 - **A** în funcție de viteza celor două vehicule;
 - **B** da;
 - **C** nu.
- **19.** Este permisă staționarea vehiculelor în zona de acțiune a indicatorului „Drum îngustat”?
 - **A** da;
 - **B** nu;
 - **C** legea nu prevede nimic cu privire la acest aspect.



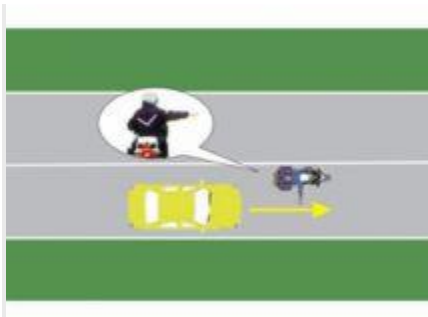
- **20.** La întâlnirea indicatorului aveți obligația:
 - **A** de a circula cu atenție, deoarece urmează o curbă la stânga;
 - **B** de a schimba obligatoriu direcția de mers spre stânga;
 - **C** de a reduce viteza, deoarece urmează o intersecție periculoasă.
-
- **21.** Un conducător auto v-a depășit de mai multe ori, întrucât nu circulă cu viteză constantă. Cum procedați atunci când urmează să fiți depășit din nou?
 - **A** creați condiții pentru a fi depășit, apropiindu-vă cât mai mult de partea dreaptă a drumului public;
 - **B** îl atenționați atât cu claxonul, cât și cu brațul stâng, pentru a renunța la această manevră;
 - **C** vă deplasați spre stânga, din timp, pentru a nu-i permite efectuarea acestei manevre.
-
- **22.** Purtarea centurii de siguranță este obligatorie în timpul circulației pe drumurile din localități?
 - **A** nu;
 - **B** da, numai de către conducătorul autovehiculului;
 - **C** da, de către cel de la volan și de către pasagerii care ocupă locurile prevăzute cu asemenea dispozitive.
-
- **23.** Cum procedează conducătorul de autovehicul la întâlnirea indicatorului „Oprire“?
 - **A** oprește unde are o bună vizibilitate pentru a se asigura și își continuă deplasarea, dacă pe drumul transversal nu circulă alte vehicule;
 - **B** reduce viteza, se asigură, după care intră în intersecție;
 - **C** reduce viteza, după care traversează intersecția.





- 24. Unde veți parca autovehiculul la întâlnirea acestui indicator?
- **A** pe direcția indicată, în parcare special amenajată;
- **B** pe trotuar, perpendicular pe acesta;
- **C** pe trotuar, în lungul acestuia.



- 25. Dacă autovehiculul de poliție transmite mesajul „coloană oficială”, ai voie să te atașezi la o astfel de coloană?
- **A** nu;
- **B** da;
- **C** da, numai dacă dispui de un autoturism performant.



- 26. Cum trebuie să procedeze conducătorul auto la semnalul polițistului din imagine?
- **A** să vireze spre dreapta;

-  să oprească;
-  semnalul se adresează numai conducătorilor care circulă din sens opus.