


- 1. Care dintre vehicule au prioritate de trecere prin intersecția prezentată?
- **A**  autocamionul și autoturismul;
- **B**  motocicletă și tramvaiul;
- **C**  motocicletă și autocamionul.



- 2. Care dintre autoturisme staționează regulamentar?
  - **A**  autoturismul roșu;
  - **B**  autoturismul albastru;
  - **C**  ambele autoturisme.
- 3. Care dintre următoarele obligații revin conducătorului de vehicul?
  - **A**  să reducă viteza, atunci când trece pe lângă un polițist de circulație aflat în serviciu pe drumul public;
  - **B**  să mențină curate plăcuțele cu numărul de înmatriculare, pentru a fi vizibile;
  - **C**  să circule cu o viteză inferioară celei prescrise de indicatorul „Viteză minimă obligatorie“.
- 4. În ce situație se interzice circulația autovehiculelor pe drumurile publice?
  - **A**  când plăcuțele cu numărul de înmatriculare sunt neconforme cu standardul;
  - **B**  când parbrizul prezintă fisuri;
  - **C**  când acestea au montate dispozitive de detectare a prezenței aparatelor radar.
- 5. Dacă, din motive obiective, vă deplasați cu viteză redusă, trebuie:
  - **A**  să circulați numai pe banda de lângă acostament sau bordură;
  - **B**  să circulați numai pe banda de lângă axul drumului, semnalizând cu luminile de avarie;
  - **C**  să emiteți semnale luminoase și sonore, pentru a preveni orice posibil eveniment.
- 6. Precizați care vehicule sunt exceptate de la obligația acordării priorității de trecere:
  - **A**  cele care se pun în mișcare de pe loc față de cele care circulă;

- **B**  autovehiculele din serviciile regulate de transport public, care se pun în mișcare din stația prevăzută cu alveolă;
  - **C**  cele care ies din curți, ganguri sau garaje.
7. Ce trebuie să aveți în vedere la urcarea într-un autoturism?
- **A**  să urcați numai pe partea dinspre trotuar;
  - **B**  să deschideți ușa numai dacă circulația permite acest lucru;
  - **C**  urcați fără grijă, deoarece vehiculele care circulă din spate sunt obligate să aștepte.
8. Conducătorul auto care circulă pe banda de lângă acostament, în același sens cu autovehiculele din serviciile regulate de transport public de persoane, este obligat:
- **A**  să nu depășească un asemenea vehicul, când se află oprit în stație;
  - **B**  să permită conducătorilor acestor vehicule să efectueze manevrele necesare repunerii în mișcare din stație, dacă este prevăzută cu alveolă;
  - **C**  să permită traversarea călătorilor pentru a se urca într-un asemenea vehicul.



9. Panoul adițional semnifică:
- **A**  numărul de kilometri până la ieșirea de pe autostradă;
  - **B**  numărul nodului rutier pe autostradă;
  - **C**  indicativul drumului european.
10. Ce le este interzis conducătorilor de autovehicule și de tramvaie?
- **A**  să folosească telefoanele mobile în timpul mersului, fără să aibă sistem de tip „mâini libere“;
  - **B**  să folosească luminile de avarie în localități;
  - **C**  să se angajeze în discuții cu alți pasageri.
11. Aveți posibilitatea de a circula pe drumurile publice cu autovehiculul avariat:
- **A**  cel mult 10 zile de la data constatării evenimentului;

- **B**  până la expirarea asigurării obligatorii de răspundere civilă auto;
  - **C**  cel mult 30 zile de la data producerii avariei.
12. Sunteți obligat să vă supuneți recoltării probelor biologice, în cazul unui accident de circulație din care a rezultat moartea sau vătămarea integrității corporale ori a sănătății unor persoane?
- **A**  da, dar numai dacă sunteți vinovat de producerea accidentului;
  - **B**  nu, dacă ați fost testat cu un aparat autorizat;
  - **C**  da.
13. Fumul de culoare albastră emis de eșapament indică:
- **A**  un consum exagerat de ulei;
  - **B**  înfundarea parțială a tobei de eșapament;
  - **C**  folosirea unor benzine colorate.
14. În cazul în care există mai multe persoane accidentate este important să se stabilească prioritățile?
- **A**  da, primul ajutor se acordă cu prioritate persoanei celei mai grav accidentate;
  - **B**  nu, nu are importanță ordinea în care se acordă primul ajutor;
  - **C**  se începe acordarea primului ajutor de la victima cea mai apropiată de salvator.
15. Dacă la trecerea la nivel cu calea ferată constatați că un vehicul este imobilizat pe calea ferată, cum veți proceda?
- **A**  vă continuați drumul, deoarece degajarea căii ferate se va face de către personalul calificat;
  - **B**  opriți și anunțați telefonic poliția despre acest incident;
  - **C**  acordați sprijin pentru scoaterea vehiculului de pe calea ferată sau, dacă nu este posibil, semnalăți prezența acestuia.



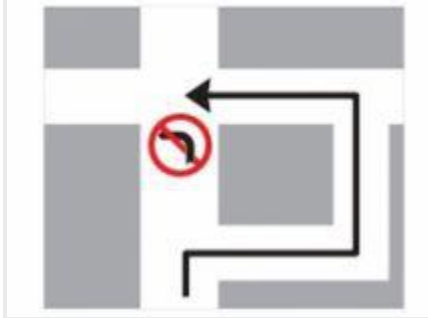
16. Cum procedați în situația dată?
- **A**  acordați prioritate autoturismului din stânga;

- **B**  vă continuați drumul;
  - **C**  acordați prioritate autoturismului din dreapta.
17. Ce obligație aveți dacă întâlniți într-o intersecție indicatorul „Înainte sau la stânga“ și semaforul se află pe culoarea verde?
- **A**  circulați înainte sau la stânga;
  - **B**  circulați numai înainte;
  - **C**  circulați în orice direcție, deoarece semnalul verde vă permite acest lucru.
18. Ce tendință prezintă un autoturism cu tracțiune pe spate, dacă accelerați prea puternic în curbă?
- **A**  autoturismul urmează, fără deviere, cursa volanului;
  - **B**  autoturismul tinde să derapeze cu spatele spre exteriorul curbei;
  - **C**  roțile din față se învârtesc în gol.
19. La ce distanță sunt instalate cele trei panouri suplimentare pentru avertizarea apropierii de o trecere la nivel cu calea ferată?
- **A**  la 300, 200 și, respectiv, 100 m;
  - **B**  la 90, 60 și, respectiv, 30 m;
  - **C**  la 150, 100 și, respectiv, 50 m.




- 20. Cum procedați în această situație, dacă circulația este blocată?
  - **A**  nu pătrundeți în intersecție până la deblocarea acesteia;
  - **B**  nu aveți obligația de a ceda trecerea;
  - **C**  veți depăși coloana din față prin stânga.
21. Un conducător auto imprudent s-a angajat în depășirea coloanei în care vă aflați, iar din sens opus se apropie la mică distanță un autocamion, care îl semnalizează cu luminile. Cum trebuie să procedați pentru evitarea producerii unui accident?

- **A**  nu aveți nicio obligație și prin urmare vă continuați deplasarea în coloană;
- **B**  reduceți viteza și măriți astfel distanța față de cel care circulă înaintea dvs., creând condiții celui ce depășește neregulamentar să intre în coloană;
- **C**  vă apropiați de axul drumului public, pentru a-l determina pe cel angajat în depășirea coloanei să renunțe la această manevră riscantă.



- **22.** Indicatorul semnifică:
- **A**  presemnalizarea traseului de urmat în vederea efectuării virajului la stânga;
- **B**  ocolirea intersecției;
- **C**  interzicerea virajului la stânga pentru camioane.
- **23.** Permisul de conducere se restituie, după expirarea perioadei de suspendare și promovarea testului de cunoaștere a regulilor de circulație, dacă a fost reținut pentru:
- **A**  neacordarea priorității de trecere vehiculelor care au acest drept, dacă prin aceasta s-a produs un accident de circulație soldat cu pagube materiale;
- **B**  nefolosirea în timpul mersului a centurii de siguranță;
- **C**  utilizarea excesivă a ștergătoarelor de parbriz.



- **24.** În situația dată sunteți obligat:
- **A**  să nu depășiți viteza de 30 km/h între orele 7.00-22.00, fiind într-o zonă frecventată de copii;
- **B**  să acordați prioritate de trecere bicicliștilor;

- **C**  să ocoliți locurile de joacă pentru copii.
- **25.** Ce trebuie să aveți în vedere atunci când lăsați copiii să urce sau să coboare din autoturismul pe care îl conduceți?
  - **A**  copiii trebuie invitați să urce sau să coboare numai pe partea dinspre trotuar;
  - **B**  copiilor le este permis să coboare singuri, pe orice parte;
  - **C**  nu trebuie să aveți nimic în vedere, deoarece copiii se comportă întotdeauna corect în circulație.



- **26.** În situația dată, aveți obligația:
  - **A**  să opriți, să vă asigurați și să acordați prioritate de trecere înainte de a traversa intersecția;
  - **B**  nu aveți nicio obligație, întrucât circulați pe un drum prioritar;
  - **C**  traversați o dată cu autoutilitara și autoturismul, deoarece acestea s-au asigurat.